



इलाहबाद उच्च न्यायालय



RO/ARO

समीक्षा अधिकारी / सहायक समीक्षा अधिकारी

भाग 4

सामान्य एवं तार्किक योग्यता



S.N.	Content	P.N.
	गणित	
1.	संख्या पद्धति	1
2.	सरलीकरण	8
3.	लघुत्तम समापवर्त्य एवं महत्तम समापवर्तक	12
4.	करणी व घातांक	15
5.	प्रतिशत्ता	19
6.	लाभ-हानि	23
7.	बट्टा	28
8.	अनुपात तथा समानुपात	31
9.	साझेदारी	35
10.	मिश्रण एवं एलीगेशन	38
11.	औसत	40
12.	समय और कार्य	44
13.	पाइप और टंकी	47
14.	चाल, समय और दूरी	50
15.	नाव और धारा	54
16.	साधारण ब्याज	56
17.	चक्रवृद्धि ब्याज	59
18.	बीजगणित	62
19.	क्षेत्रमिति	67

रीजनिंग VERBAL

1.	श्रृंखला	80
2.	सादृश्यता	83
3.	वर्गीकरण	87
4.	कूट – भाषा परीक्षण	91
5.	अंग्रेजी वर्णमाला परीक्षण	95
6.	दिशा और दूरी	99
7.	क्रम और रैंकिंग	105
8.	घड़ी	108
9.	कैलेण्डर	112
10.	रक्त संबंध	115
11.	गणितीय संक्रियाएँ	121
12.	आव्यूह	123
13.	बैठक व्यवस्था	127
14.	वेन आरेख	132
15.	न्याय निगमन	137
16.	पासा	143
17.	पहेली परीक्षण	147
18.	शब्दों का तार्किक क्रम	152
19.	कथन और निष्कर्ष	156

NON – VERBAL

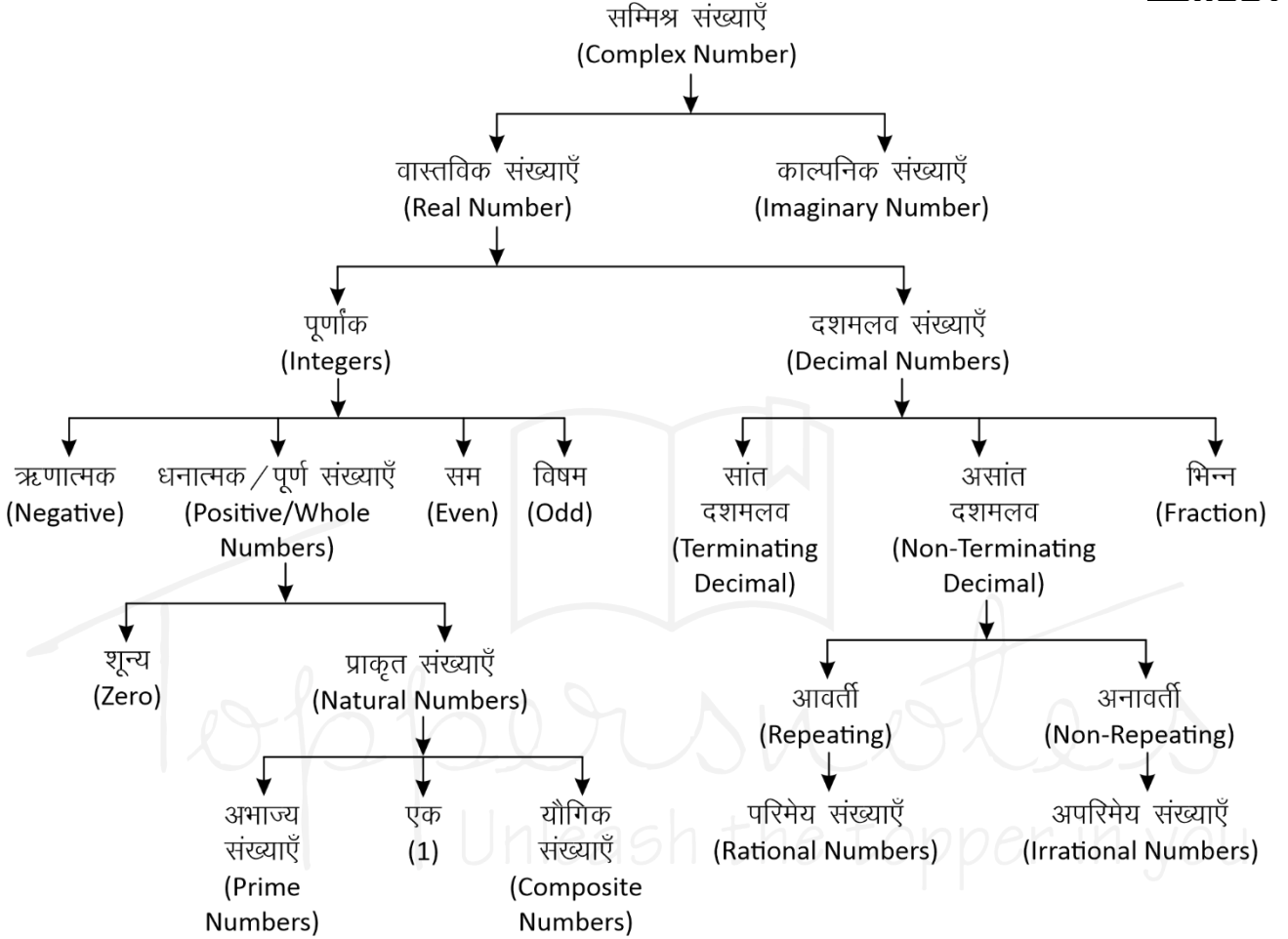
20.	आकृति श्रृंखला	160
21.	आकृति सादृश्य	165
22.	आकृति वर्गीकरण	169
23.	दर्पण प्रतिबिम्ब	172
24.	आकृति निर्माण	176

25.	अपूर्ण आकृति को पूरा करना	179
26.	आकृति आव्यूह	184
27.	सन्निहित आकृतियाँ	189
28.	आकृतियों की गणना	193
हिन्दी		
1.	विलोम – शब्द	200
2.	वर्तनी शुद्धि	206
3.	शुद्ध-वर्तनी एवं वाक्य शुद्धि	209
4.	वाक्य के लिए एक शब्द	220
5.	तत्सम – तद्भव	226
6.	विशेषण	228
7.	पर्यायवाची	229
8.	मुहावरे	231
9.	लोकोक्ति	231
10.	पारिभाषिक शब्दावली	240
11.	अनुवाद	246
12.	अपठित गद्यांश	262
13.	कार्यालयी पत्र या सरकारी पत्र	273
14.	निबंध लेखन	282

संख्या पद्धति (Number System)

संख्या पद्धति :- किसी भी यौगिक राशि के परिणामों का बोध कराने के लिए जिस पद्धति का उपयोग होता है, संख्या पद्धति कहलाती है।

संख्याओं को उनके गुणों और विशेषताओं के आधार पर निम्न प्रकार से वर्गीकृत किया जा सकता है -



सम्मिश्र संख्याएँ (Complex Number)

वे सभी संख्याएँ जो वास्तविक और काल्पनिक संख्याओं से मिलकर बनी होती है।

इन्हें $(a + ib)$ के रूप में लिखा जाता है। जहाँ a और b वास्तविक संख्याएँ हैं तथा $i = \sqrt{-1}$ है।

$$Z = a \text{ (वास्तविक संख्या)} + ib \text{ (काल्पनिक संख्या)}$$

1. **वास्तविक संख्याएँ (Real Numbers):** परिमेय एवं अपरिमेय संख्याओं को सम्मिलित रूप से वास्तविक संख्या कहते हैं। इन्हें संख्या रेखा पर प्रदर्शित किया जा सकता है।
- I. **पूर्णांक संख्याएँ :** संख्याओं का ऐसा समुच्चय जिसमें पूर्ण संख्याओं के साथ-साथ ऋणात्मक संख्याएँ भी सम्मिलित हो, पूर्णांक संख्याएँ कहलाती है, इसे I से सूचित करते हैं।
 $I = \{-4, -3, -2, -1, 0, 1, 2, 3, 4, \dots\}$

- (ii) **धनात्मक/पूर्ण संख्याएँ :** जब प्राकृत संख्याओं के परिवार में 0 को भी शामिल कर लेते हैं, तब वह पूर्ण संख्याएँ कहलाती है।

$$W = \{0, 1, 2, 3, 4, 5, \dots\}$$

नोट : चार लगातार प्राकृतिक संख्याओं का गुणनफल हमेशा 24 से पूर्णतः विभाज्य होता है।

- A. **प्राकृत संख्याएँ :** जिन संख्याओं का इस्तेमाल वस्तुओं को गिनने के लिए किया जाता है, प्राकृत संख्या कहते हैं।

$$N = \{1, 2, 3, 4, 5, \dots\}$$

प्रथम n प्राकृतिक संख्याओं का योग $= \frac{n(n+1)}{2}$

प्रथम n प्राकृतिक संख्याओं के वर्गों का योग $= \frac{n(n+1)(2n+1)}{6}$

प्रथम n प्राकृतिक संख्याओं के घनों का योग =

$$\left[\frac{n(n+1)}{2} \right]^2$$

दो लगातार प्राकृतिक संख्याओं के वर्गों का अंतर उनके योगफल के बराबर होता है।

उदाहरण –

$$11^2 = 121$$

$$12^2 = 144$$

$$11 + 12 \rightarrow 23 \quad \text{Difference } 144 - 121 = 23$$

(a) अभाज्य संख्याएँ (Prime Numbers) :- एक संख्या जिसके केवल दो ही गुणक होते हैं, 1 और वह संख्या स्वयं, उन्हें अभाज्य संख्या कहते हैं।

जैसे – {2, 3, 5, 7, 11, 13, 17, 19.....}

- तीन अंको की सबसे छोटी अभाज्य संख्या = 101
- तीन अंको की सबसे बड़ी अभाज्य संख्या = 997
- जहाँ 1 Prime Number नहीं है।
- 2 एकमात्र सम Prime संख्या है।
- 3, 5, 7 क्रमागत विषम अभाज्य संख्या का इकलौता जोड़ा है।
- 1 से 25 तक कुल अभाज्य संख्या = 9
- 25 से 50 तक कुल अभाज्य संख्या = 6
- 1-50 तक कुल 15 Prime Number है।
- 51-100 तक कुल 10 Prime Number है।
- अतः 1-100 तक कुल 25 Prime Number है।
- 1 से 200 तक कुल अभाज्य संख्या = 46
- 1 से 300 तक कुल अभाज्य संख्या = 62
- 1 से 400 तक कुल अभाज्य संख्या = 78
- 1 से 500 तक कुल अभाज्य संख्या = 95

अभाज्य संख्याओं का परीक्षण :- दी गयी संख्या के संभावित वर्गमूल से बड़ी कोई संख्या लीजिए। माना यह संख्या x है, अब x से छोटी समस्त अभाज्य संख्याओं की सहायता से दी गयी संख्या की विभाज्यता का परीक्षण कीजिए।

- यदि यह इनमें से किसी से भी विभाज्य नहीं है तो यह निश्चित रूप से एक अभाज्य संख्या होगी।

उदाहरण –

क्या 349 एक अभाज्य संख्या है या नहीं ?

हल –

349 का संभावित वर्गमूल 19 होगा और 19 से छोटी सभी अभाज्य संख्याएँ : 2, 3, 5, 7, 11, 13, 17 है।

स्पष्ट है कि 349 इन सभी अभाज्य संख्याओं से विभाज्य नहीं है अतः 349 भी एक अभाज्य संख्या है।

सह अभाज्य संख्याएँ (Co-prime Numbers) – वह संख्याएँ जिनका HCF सिर्फ 1 हो।

उदाहरण – (4,9), (15, 22), (39, 40)

$$\text{HCF} = 1$$

(b) यौगिक संख्याएँ (Composite Numbers) :- वे प्राकृत संख्याएँ जो 1 या स्वयं को छोड़कर किसी अन्य संख्या से भी विभाज्य हो, यौगिक संख्याएँ कहलाती हैं।
जैसे – 4, 6, 8, 9, 10 आदि।

(ii) सम संख्याएँ : संख्याएँ जो 2 से पूर्णतः विभाज्य हो सम संख्या कहलाती हैं।

$$n \text{ वां पद} = 2n$$

$$\text{प्रथम } n \text{ सम संख्याओं का योग} = n(n+1)$$

$$\text{प्रथम } n \text{ सम संख्याओं के वर्गों का योग} =$$

$$\frac{2n(n+1)(2n+1)}{3}$$

$$\left\{ n = \frac{\text{अंतिम पद}}{2} \right\}$$

(iii) विषम संख्याएँ : वह संख्याएँ जो 2 से विभाजित न हो, विषम संख्याएँ होती हैं।

$$\text{प्रथम } n \text{ विषम संख्याओं का योग} = n^2$$

$$\left\{ n = \frac{\text{अंतिम पद} + 1}{2} \right\}$$

II. दशमलव

दशमलव वे संख्याएँ हैं जो दो पूर्ण संख्याओं या पूर्णांको के बीच आती हैं। जैसे – 3.5 एक दशमलव संख्या है जो 3 व 4 के बीच स्थित है।

- प्रत्येक दशमलव संख्या को भिन्न के रूप में लिखा जा सकता है और इसके विपरीत प्रत्येक भिन्न को भी दशमलव रूप में लिखा जा सकता है।

(i) सांत दशमलव

वह संख्याएँ जो दशमलव के बाद कुछ अंकों के बाद खत्म हो जाये जैसे – 0.25, 0.15, 0.375 इसे भिन्न संख्या में लिखा जा सकता है।

(ii) असांत दशमलव

जो संख्याएँ दशमलव के बाद कभी खत्म नहीं होती बल्कि पुनरावृत्ति करती हो, अनंत तक।

जैसे – 0.3333, 0.7777, 0.183183183.....

ये दो प्रकार के हो सकते हैं –

A. आवर्ती दशमलव भिन्न (Repeating)

वह दशमलव भिन्न दशमलव बिंदु के बाद एक या अधिक अंकों की पुनरावृत्ति होती है।

$$\text{जैसे} - \frac{1}{3} = 0.333..., \frac{22}{7} = 3.14285714.....$$

- ऐसी भिन्नों को व्यक्त करने के लिए दोहराए जाने वाले अंक के ऊपर एक रेखा खींच देते हैं।

इसे बार बोलते है।

$$0.333..... = 0.\overline{3}$$

$$\frac{22}{7} = 3.14285714..... = 3.14\overline{2857}$$

- शुद्ध आवर्ती दशमलव भिन्न को निम्न प्रकार से साधारण भिन्न में बदले -

$$0.\overline{P} = \frac{P}{9} \quad 0.\overline{pq} = \frac{pq}{99} \quad 0.\overline{pqr} = \frac{pqr}{999}$$

- मिश्रित आवर्ती दशमलव भिन्न को निम्न प्रकार से साधारण भिन्न में बदले -

$$0.p\overline{q} = \frac{pq - p}{90} \quad 0.pq\overline{r} = \frac{pqr - pq}{900}$$

$$0.\overline{pqr} = \frac{pqr - p}{990} \quad 0.pq\overline{rs} = \frac{pqrs - pq}{9900}$$

उदाहरण -

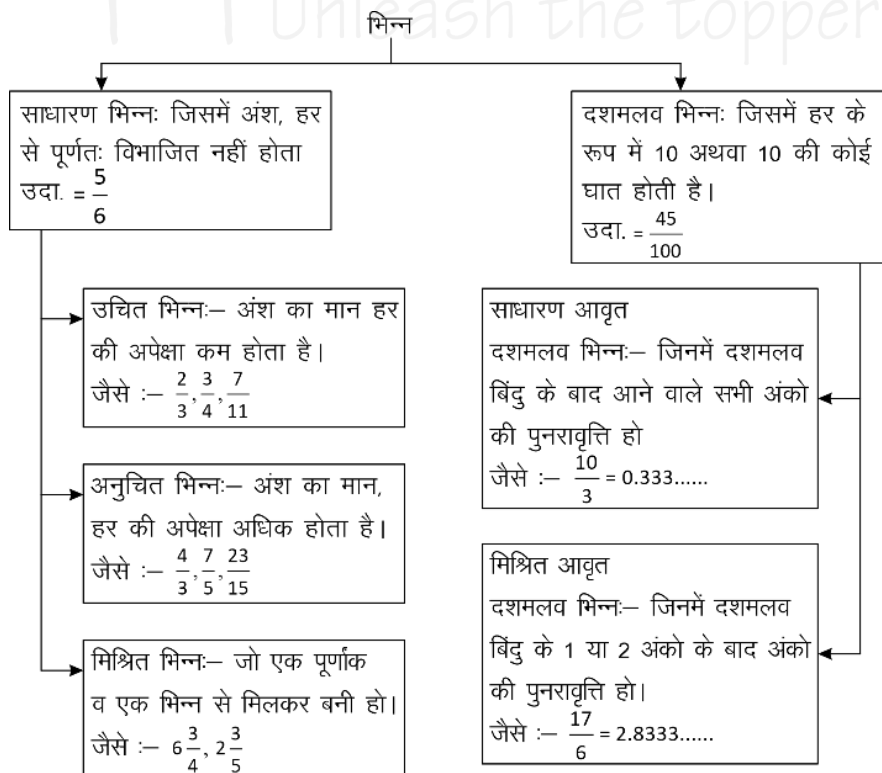
(i) $0.\overline{39} = \frac{39}{99} = \frac{13}{33}$

(ii) $0.\overline{625} = \frac{625 - 6}{990} = \frac{619}{990}$

(iii) $0.\overline{3524} = \frac{3524 - 35}{9900} = \frac{3489}{9900} = \frac{1163}{3300}$

- परिमेय (Rational) संख्याएँ** - वह संख्याएँ जिन्हें P/Q form में लिखा जा सकता है, लेकिन Q जहाँ शून्य नहीं होना चाहिए, P व Q पूर्णांक होने चाहिए।

भिन्नों के प्रकार



उदाहरण -

$$\frac{2}{3}, \frac{4}{5}, \frac{10}{-11}, \frac{7}{8}$$

B. अनावर्ती (Non-Repeating)

जो संख्याएँ दशमलव के बाद कभी खत्म नहीं होती पर ये अपनी संख्याओं की निश्चित पुनरावृत्ति (Repeat) नहीं करती।

जैसे - $\pi = 3.1415926535897932...$

$\sqrt{2} = 1.41421356237...$

- अपरिमेय (Irrational) संख्याएँ** - इन्हें P/Q form में प्रदर्शित नहीं किया जा सकता।

उदाहरण -

$\sqrt{2}, \sqrt{3}, \sqrt{11}, \sqrt{19}, \sqrt{26}.....$

भिन्न (Fraction) :- भिन्न एक ऐसी संख्या है जो किसी सम्पूर्ण चीज का कोई भाग निरूपित करती है।

जैसे एक सेब के चार भाग किये जाते है, उसमें से एक हिस्सा निकाल दिया गया तो उसे $\frac{1}{4}$ के रूप में प्रदर्शित

किया जाता है। जबकि शेष बचे भाग को $\frac{3}{4}$ के रूप में प्रदर्शित किया जायेगा।

भिन्न दो भागों में बंटा होता है - अंश व हर

माना कोई भिन्न = $\frac{p}{q}$ → अंश
 → हर

2. काल्पनिक संख्याएँ (Imaginary Numbers): जिन्हें संख्या रेखा पर प्रदर्शित नहीं किया जा सकता है।

परफेक्ट संख्या (Perfect Number)

वह संख्या जिसके गुणनखण्डों का योग उस संख्या के बराबर हो (गुणनखण्डों में स्वयं उस संख्या को छोड़कर)

उदाहरण –

$6 \rightarrow 1, 2, 3 \rightarrow$ यहाँ $1 + 2 + 3 \rightarrow 6$

$28 \rightarrow 1, 2, 4, 7, 14 \rightarrow 1 + 2 + 4 + 7 + 14 \rightarrow 28$

पूर्णवर्ग संख्या की पहचान



इकाई अंक जो एक पूर्ण वर्ग संख्या के हो सकते हैं।

- | | |
|--|-----|
| • 0 | 2 — |
| • 1 | 3 — |
| • 4 | 7 — |
| • 5 or 25 | 8 — |
| • 6 | |
| • 9 | |
| • किसी भी संख्या के वर्ग के अंतिम दो अंक वही होंगे जो 1-24 तक की संख्याओं के वर्ग के अंतिम दो अंक होंगे। | |

नोट – अतः सभी को 1-25 के वर्ग अवश्य याद होने चाहिए।

Binary व Decimal में बदलना

- Decimal संख्या को Binary में बदलना :**
 किसी डेसीमल (दस-आधारी) संख्या के समतुल्य Binary number ज्ञात करने के लिए हम प्रदत्त डेसीमल (दस-आधारी) संख्या को लगातार 2 से तब तक भाग देते हैं जब तक कि अंतिम भागफल के रूप में 1 प्राप्त नहीं होता है।
 अब सभी शेषफल को उल्टे क्रम में लिखा जाए तो परिवर्तित बाइनरी संख्या प्राप्त होती है।

उदाहरण –

$2 \times 44 = 88 ; 89 - 88 = 1$	89
$2 \times 22 = 44 ; 44 - 44 = 0$	44
$2 \times 11 = 22 ; 22 - 22 = 0$	22
$2 \times 5 = 10 ; 11 - 10 = 1$	11
$2 \times 2 = 4 ; 5 - 4 = 1$	5
$2 \times 1 = 2 ; 2 - 2 = 0$	2
	1

अतः 89 के समतुल्य **Binary number = (1011001)₂**

2. Binary को Decimal में बदलना :

Binary system में 1 का मान जब वह हर बार अपनी बाईं ओर एक स्थान खिसकता है, स्वयं का दुगुना हो जाता है तथा जहाँ कहीं भी 0 आता है उसका मान 0 होता है।

उदाहरण –

1	0	1	1	0	0	1
2^6	2^5	2^4	2^3	2^2	2^1	2^0

अब

$$(1011001)_2 = 1 \times 2^6 + 0 \times 2^5 + 1 \times 2^4 + 1 \times 2^3 + 0 \times 2^2 + 0 \times 2^1 + 1 \times 2^0$$

$$= 64 + 0 + 16 + 8 + 8 + 0 + 1 \{2^0 = 1\} = 89$$

भाजकों की संख्या या गुणनखंड की संख्या निकालना

पहले संख्या का अभाज्य गुणनखंड करेंगे और उसे Power के रूप में लिखेंगे तथा प्रत्येक (Power) घात में एक जोड़कर घातों का गुणा करेंगे तो भाजकों की संख्या प्राप्त हो जायेगी।

उदाहरण –

2280 को कुल कितनी संख्याओं से पूर्णतः भाग दिया जा सकता है।

हल –

$2280 = 2^3 \times 3^1 \times 5^1 \times 19^1$

भाजकों की संख्या = $(3+1)(1+1)(1+1)(1+1)$
 $= 4 \times 2 \times 2 \times 2 = 32$

इकाई का अंक ज्ञात करना

- जब संख्या घात (Power) के रूप में हो**
 जब Base का इकाई अंक 0, 1, 5 या 6 हो, तो कोई भी प्राकृतिक घात के लिए परिणाम का इकाई अंक वही रहेगा। जब base का इकाई अंक 2, 3, 4, 7, 8, या 9 हो, तो Power में 4 से भाग देंगे और जितना शेष प्राप्त होगा उतना ही Base के इकाई अंक पर power रखेंगे। जब power, 4 से पूर्णतः विभाजित हो जाता है तो base के इकाई अंक पर 4 power रखेंगे।
- सरलीकरण के रूप में हो**
 प्रत्येक संख्या के इकाई के अंक को लिखकर चिन्ह के अनुसार सरल करेंगे जो परिणाम आयेगा उसका इकाई अंक उत्तर होगा।

Power वाली संख्याओं में भाग देना (भाजक निकालना)

- यदि $a^n + b^n$ दिया हो तो
 n विषम होने पर $(a+b)$ इसका भाजक होगा।
- यदि $a^n - b^n$ दिया हो तो।

<p>n विषम होने पर भाजक $\rightarrow (a-b)$</p> <p>n सम होने पर भाजक $\rightarrow (a-b)$ या $(a+b)$ या दोनों ।</p> <p>(i) $a^n \div (a-1)$ हो, तो शेषफल हमेशा 1 बचेगा ।</p> <p>(ii) $a^n \div (a+1)$ $\left\{ \begin{array}{l} \text{यदि } n \text{ सम हो, तो हमेशा 1 बचेगा} \\ \text{यदि } n \text{ विषम हो, तो शेषफल } a \text{ होगा} \end{array} \right.$</p> <p>(iii) $(a^n + a) \div (a-1)$ हो, तो शेषफल 2 बचेगा</p> <p>(iv) $(a^n + a) \div (a+1)$ $\left\{ \begin{array}{l} \text{यदि } n \text{ सम हो, तो शेषफल शून्य (0) होगा।} \\ \text{यदि } n \text{ विषम हो, तो शेषफल } (a-1) \text{ होगा।} \end{array} \right.$</p>	<p style="text-align: center;">रोमन पद्धति के संकेतक</p> <table style="width: 100%; border-collapse: collapse;"> <tr> <td>1</td><td>\rightarrow</td><td>I</td><td>20</td><td>\rightarrow</td><td>XX</td> </tr> <tr> <td>2</td><td>\rightarrow</td><td>II</td><td>30</td><td>\rightarrow</td><td>XXX</td> </tr> <tr> <td>3</td><td>\rightarrow</td><td>III</td><td>40</td><td>\rightarrow</td><td>XL</td> </tr> <tr> <td>4</td><td>\rightarrow</td><td>IV</td><td>50</td><td>\rightarrow</td><td>L</td> </tr> <tr> <td>5</td><td>\rightarrow</td><td>V</td><td>100</td><td>\rightarrow</td><td>C</td> </tr> <tr> <td>6</td><td>\rightarrow</td><td>VI</td><td>500</td><td>\rightarrow</td><td>D</td> </tr> <tr> <td>7</td><td>\rightarrow</td><td>VII</td><td>1000</td><td>\rightarrow</td><td>M</td> </tr> <tr> <td>8</td><td>\rightarrow</td><td>VIII</td><td></td><td></td><td></td> </tr> <tr> <td>9</td><td>\rightarrow</td><td>IX</td><td></td><td></td><td></td> </tr> <tr> <td>10</td><td>\rightarrow</td><td>X</td><td></td><td></td><td></td> </tr> </table>	1	\rightarrow	I	20	\rightarrow	XX	2	\rightarrow	II	30	\rightarrow	XXX	3	\rightarrow	III	40	\rightarrow	XL	4	\rightarrow	IV	50	\rightarrow	L	5	\rightarrow	V	100	\rightarrow	C	6	\rightarrow	VI	500	\rightarrow	D	7	\rightarrow	VII	1000	\rightarrow	M	8	\rightarrow	VIII				9	\rightarrow	IX				10	\rightarrow	X			
1	\rightarrow	I	20	\rightarrow	XX																																																								
2	\rightarrow	II	30	\rightarrow	XXX																																																								
3	\rightarrow	III	40	\rightarrow	XL																																																								
4	\rightarrow	IV	50	\rightarrow	L																																																								
5	\rightarrow	V	100	\rightarrow	C																																																								
6	\rightarrow	VI	500	\rightarrow	D																																																								
7	\rightarrow	VII	1000	\rightarrow	M																																																								
8	\rightarrow	VIII																																																											
9	\rightarrow	IX																																																											
10	\rightarrow	X																																																											

विभाज्यता के नियम

संख्या	नियम
2 से	अन्तिम अंक सम संख्या या शून्य (0) हो जैसे – 236, 150, 1000004
3 से	किसी संख्या में अंकों का योग 3 से विभाजित होगा तो पूर्ण संख्या 3 से विभाजित होगी । जैसे – 729, 12342, 5631
4 से	अन्तिम दो अंक शून्य हो या 4 से विभाजित हो जैसे – 1024, 58764, 567800
5 से	अन्तिम अंक शून्य या 5 हो जैसे – 3125, 625, 1250
6 से	कोई संख्या अगर 2 तथा 3 दोनों से विभाजित हो तो वह 6 से भी विभाजित होगी । जैसे – 3060, 42462, 10242
7 से	यदि दी गयी संख्या के इकाई अंक का दुगुना बाकी संख्या (इकाई का अंक छोड़कर) से घटाने पर प्राप्त संख्या 7 से विभाजित है तो पूरी संख्या 7 से विभाजित हो जाएगी । अथवा किसी संख्या में अंकों की संख्या 6 के गुणज में हो तो संख्या 7 से विभाजित होगी । जैसे – 222222, 444444444444, 7854
8 से	यदि किसी संख्या के अन्तिम तीन अंक 8 से विभाज्य हो या अंतिम तीन अंक '000' (शून्य) हो । जैसे – 9872, 347000
9 से	किसी संख्या के अंकों का योग अगर 9 से विभाज्य हो तो पूर्ण संख्या 9 से विभक्त होगी ।
10 से	अंतिम अंक शून्य (0) हो तो
11 से	विषम स्थानों पर अंकों का योग व सम स्थानों पर अंकों के योग का अन्तर शून्य (0) या 11 का गुणज हो तो जैसे – 1331, 5643, 8172659
12 से	3 व 4 के विभाज्य का संयुक्त रूप
13 से	किसी संख्या में एक ही अंक 6 बार दोहराए या अन्तिम अंक को 4 से गुणा करके शेष संख्या (इकाई अंक छोड़कर) में जोड़ने पर प्राप्त संख्या 13 से विभाजित हो तो पूर्ण संख्या 13 से विभाजित होगी । जैसे – 222222, 17784

अभ्यास प्रश्न

संख्याओं के योग, अंतर तथा गुणनफल पर आधारित



प्रश्नों के हल



उदा.1 यदि किसी संख्या का $\frac{3}{4}$ उस संख्या के $\frac{1}{6}$ से 7 अधिक है, तो उस संख्या $\frac{5}{3}$ क्या होगा?

- (a) 12 (b) 18
(c) 15 (d) 20

उत्तर (d)

उदा.2 यदि दो संख्याओं का योगफल तथा उनका गुणनफल a तथा b , उनके व्युत्क्रमों का योगफल होगा

- (a) $\frac{1}{a} + \frac{1}{b}$ (b) $\frac{b}{a}$
(c) $\frac{a}{b}$ (d) $\frac{a}{ab}$

उत्तर (c) 1"

उदा.3 दो संख्याओं का योग 75 है और उनका अंतर 25 है, तो उन दोनों संख्याओं का गुणनफल क्या होगा?

- (a) 1350 (b) 1250
(c) 1000 (d) 125

उत्तर (b)

उदा.4 एक विद्यार्थी से किसी संख्या का $\frac{5}{16}$ ज्ञात करने के लिये कहा गया और गलती से उस संख्या का $\frac{5}{6}$ ज्ञात कर लिया अर्थात् उसका उत्तर सही उत्तर से 250 अधिक था तो दी हुई संख्या ज्ञात कीजिये।

- (a) 300 (b) 480
(c) 450 (d) 500

उत्तर (b)

सम, विषम तथा अभाज्य संख्याओं पर आधारित



उदा.1 यदि किन्हीं तीन क्रमागत विषम प्राकृत संख्याओं का योग 147 हो, तो बीच वाली संख्या होगी।

- (a) 47 (b) 48
(c) 49 (d) 51

उत्तर (c)

उदा.2 तीन अभाज्य संख्याओं का योग 100 है यदि उनमें से एक संख्या दूसरी संख्या से 36 अधिक हो तो एक संख्या क्या होगा ?

भाग, भागफल तथा शेषफल पर आधारित



प्रश्नों के हल



उदा.1 64329 को जब किसी संख्या से भाग दिया जाता है, तो 175, 114 तथा 213 लगातार तीन शेषफल आते हैं तो भाज्य क्या है ?

- (a) 184 (b) 224
(c) 234 (d) 296

उत्तर (c)

उदा.2 $(3^{25} + 3^{26} + 3^{27} + 3^{28})$ विभाजित है।

- (a) 11 (b) 16
(c) 25 (d) 30

उत्तर (d)

उदा.3 विभाजन के एक योगफल में विभाजक, भागफल का 12 गुना तथा शेषफल का 5 गुना है। तदनुसार, यदि उसमें शेषफल 36 हो, तो भाज्य कितना होगा ?

- (a) 2706
(b) 2796
(c) 2736
(d) 2826

उत्तर (c)

इकाई अंक निकालना आधारित



प्रश्नों के हल



उदा.1 $416 \times 333 + 2167 \times 118 - 114 \times 133$ के परिणाम का इकाई अंक ज्ञात कीजिए ?

उदा.2 $(3694)^{1739} \times (615)^{317} \times (841)^{491}$ में इकाई अंक कितना है ?

- (a) 0 (b) 2
(c) 3 (d) 5

प्राकृतिक संख्याओं के square/cube के योग एवं अंतर पर आधारित



- उदा.1 $(11^2 + 12^2 + 13^2 + \dots + 20^2) = ?$
 (a) 385 (b) 2485
 (c) 2870 (d) 3255

- उदा.2 $1^3 + 2^3 + 3^3 + \dots + 10^3 = ?$

दशमलव संख्या आधारित



- उदा.1 एक विद्यार्थी को निम्नलिखित व्यंजक को सरल करने को कहा गया

$$\frac{0.0016 \times 0.025}{0.325 \times 0.05} \div \frac{0.1216 \times 0.105 \times 0.002}{0.08512 \times 0.625 \times 0.039} + \left(\sqrt[3]{27} - \sqrt{6\frac{3}{4}} \right)^2$$

- उसका उत्तर $\frac{19}{10}$ था। उसके उत्तर में कितने प्रतिशत त्रुटि थी ?

- उदा.2 $\frac{0.936 - 0.568}{0.45 + 2.67}$ को परिमेय संख्या के रूप में व्यक्त कीजिए ?

शून्य की संख्या पर आधारित



- उदा.1 $(1^1 \times 2^2 \times 3^3 \times 4^4 \times \dots \times 98^{98} \times 99^{99} \times 100^{100})$ के गुणनफल में जीरो (शून्यों) की संख्या ज्ञात करें ?
 (a) 1200 (b) 1300
 (c) 1500 (d) 1600

- उदा.2 $1 \times 2 \times 3 \times \dots \times 250$ को गुणा किया जाए तो परिणाम के अंत में कितने 0 होंगे ?

सबसे बड़ी तथा सबसे छोटी संख्या/भिन्न ज्ञात करने पर आधारित



- उदा.1 निम्न में से $\frac{2}{5}$ और $\frac{4}{9}$ के बीच उपस्थित भिन्न हैं ?

- (a) $\frac{3}{7}$ (b) $\frac{2}{3}$
 (c) $\frac{4}{5}$ (d) $\frac{1}{2}$

- उदा.2 निम्न में से बड़ी संख्या हैं।

- $(3)^{\frac{1}{3}}, (2)^{\frac{1}{2}}, 1, (6)^{\frac{1}{6}}$
 (a) $(2)^{\frac{1}{2}}$ (b) 1
 (c) $(6)^{\frac{1}{6}}$ (d) $(3)^{\frac{1}{3}}$

आरोही/अवरोही क्रम आधारित



- उदा.1 $\sqrt{2}, \sqrt[3]{4}, \sqrt[4]{6}$ को बढ़ते क्रम में लिखने पर –
 (a) $\sqrt{2}, \sqrt[3]{4}, \sqrt[4]{6}$ (b) $\sqrt[4]{6} < \sqrt{2} < \sqrt[3]{4}$
 (c) $\sqrt[4]{6} < \sqrt[3]{4} < \sqrt{2}$ (d) $\sqrt{2} < \sqrt[4]{6} < \sqrt[3]{4}$

- उदा.2 निम्नलिखित को आरोही क्रम में सजाएँ –
 $\sqrt{7} - \sqrt{5}, \sqrt{5} - \sqrt{3}, \sqrt{9} - \sqrt{7}, \sqrt{11} - \sqrt{9}$

- उदा.3 संख्याओं $\frac{7}{9}, \frac{11}{13}, \frac{16}{19}, \frac{21}{25}$ को अवरोही क्रम में लिखिये ?

गुणनखंडों की संख्या पर आधारित



प्रश्नों के हल



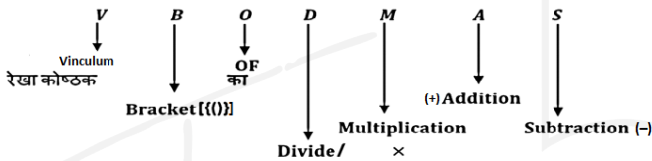
- उदा.1 $\{(127)^{127} + (97)^{127}\}$ तथा $\{(127)^{97} + (97)^{97}\}$ का उभयनिष्ठ गुणनखण्ड क्या होगा ?
 (a) 127 (b) 97
 (c) 30 (d) 224

- उदा.2 $\frac{(18)^{15} \times (75)^{16} \times (42)^{14}}{(35)^{12} \times (12)^{16}}$ में कितने अभाज्य खंड हैं ?

शरलीकरण (Simplification)



- शरलीकरण के अंतर्गत हम दिए गये अंकडों को शरल रूप में प्रदर्शित करते हैं जैसे कि अंकडे भिन्न में, दशमलव में, बट्टे में, घात में तथा Mathematical Operation को हल करके या रूप बदल के किया जाता है।
- यदि कुछ संख्या पर भिन्न-भिन्न प्रकार के Operation दिये हो तो हम उसे कैसे हल करे कि प्रश्न का उत्तर सही श्राये उसके लिये एक Rule होता है जिसे हम VBODMAS का Rule कहते हैं।
- हम पहले कौनसा Operation करे, यह VBODMAS का Rule तय करता है।



- इन सभी गणितीय क्रियाओं में सबसे पहले V है जिसका मतलब Vinculum (रेखा कोष्ठक) है। यदि प्रश्न में रेखा कोष्ठक है तो सर्वप्रथम उसे हल करेंगे और उसके बाद (BODMAS) Rule कार्य करेगा
- द्वितीय स्थान पर B (Bracket) मतलब कोष्ठक है जो निम्न हो सकते हैं-
 1. छोटा कोष्ठक ()
 2. मंझला कोष्ठक { }
 3. बडा कोष्ठक []
- सबसे पहले छोटा कोष्ठक, फिर मंझला कोष्ठक और उसके बाद बडा कोष्ठक हल किया जाता है।
- तृतीय स्थान पर "O" है जो कि "of" या "Order" से बना है, जिसका मतलब "गुणा" से या "का" से होता है।
- चतुर्थ स्थान पर "D" है जिसका मतलब "Division" है, दिए गये व्यंजन में भिन्न-भिन्न क्रियाओं में सबसे पहले भाग करते हैं यदि दिया है तो।
- पंचम स्थान पर "M" है जिसका मतलब "Multiplication" है, दिये गए व्यंजन में "Division" के बाद "Multiplication" (गुणा) करेंगे।

- छठा स्थान "A" रखता है जो "Addition" (जोडा) से संबंधित है। Division-multiplication के बाद Addition क्रिया होती है।
- सप्तम स्थान पर "S" है जो "Subtraction" से बना है।

प्रश्न -
शरल कीजिए।

$$\left[3\frac{1}{4} \div \left\{ 1\frac{1}{4} - \frac{1}{2} \left(2\frac{1}{2} - \frac{1}{4} - \frac{1}{6} \right) \right\} \right] \div \left(\frac{1}{2} \text{ of } 4\frac{1}{3} \right)$$

हल:

Step 1 - सबसे पहले सभी मिश्र भिन्नों को साधारण भिन्नों में बदलते हैं।

$$\left[\frac{13}{4} \div \left\{ \frac{5}{4} - \frac{1}{2} \left(\frac{5}{2} - \frac{1}{4} - \frac{1}{6} \right) \right\} \right] \div \left(\frac{1}{2} \text{ of } \frac{13}{3} \right)$$

अब VBODMAS के अनुसार

Step 2 -

$$\left[\frac{13}{4} \div \left\{ \frac{5}{4} - \frac{1}{2} \left(\frac{5}{2} - \frac{3-2}{12} \right) \right\} \right] \div \left(\frac{1}{2} \text{ of } \frac{13}{3} \right)$$

Step 3 -

$$\left[\frac{13}{4} \div \left\{ \frac{5}{4} - \frac{1}{2} \left(\frac{5}{2} - \frac{1}{12} \right) \right\} \right] \div \frac{13}{6}$$

Step 4 -

$$\left[\frac{13}{4} \div \left\{ \frac{5}{4} - \frac{1}{2} \times \left(\frac{30-1}{12} \right) \right\} \right] \div \frac{13}{6}$$

Step 5 -

$$\left[\frac{13}{4} \div \left\{ \frac{5}{4} - \frac{1}{2} \times \frac{29}{12} \right\} \right] \div \frac{13}{6}$$

$$\text{Step 6 - } \left[\frac{13}{4} \div \left\{ \frac{30-29}{24} \right\} \right] \div \frac{13}{6}$$

$$\text{Step 7 - } \left[\frac{13}{4} \div \frac{1}{24} \right] \div \frac{13}{6}$$

$$\text{Step 8 - } \left[\frac{13}{4} \times 24 \right] \div \frac{13}{6}$$

$$\text{Step 9 - } 13 \times 6 \times \frac{6}{13}$$

= 36 Ans.

बीजगणितीय सूत्र

1. $(a + b)^2 = a^2 + 2ab + b^2$
2. $(a - b)^2 = a^2 - 2ab + b^2$
3. $(a + b)^2 + (a - b)^2 = 2(a^2 + b^2)$
4. $(a^2 - b^2) = (a + b)(a - b)$
5. $a^2 + b^2 + c^2 = (a + b + c)^2 - 2(ab + bc + ca)$
6. $a^2 + \frac{1}{a^2} = \left(a + \frac{1}{a}\right)^2 - 2$
7. $a^2 + b^2 + c^2 - ab - bc - ca = \frac{1}{2}[(a-b)^2 + (b+c)^2 + (c-a)^2]$
8. $a^3 + b^3 = (a + b)^3 - 3ab(a + b) = (a + b)(a^2 - ab + b^2)$
9. $a^3 - b^3 = (a - b)^3 + 3ab(a - b) = (a - b)(a^2 + ab + b^2)$
10. $a^3 + b^3 + c^3 - 3abc = (a + b + c)(a^2 + b^2 + c^2 - ab - bc - ca)$
 $= \frac{1}{2}(a+b+c)\{(a-b)^2 + (b-c)^2 + (c-a)^2\}$
 यदि $a + b + c = 0$ हो तो
 $a^3 + b^3 + c^3 = 3abc$
11. $a^3 + \frac{1}{a^3} = \left(a + \frac{1}{a}\right)^3 - 3\left(a + \frac{1}{a}\right)$
12. $a^3 - \frac{1}{a^3} = \left(a - \frac{1}{a}\right)^3 + 3\left(a - \frac{1}{a}\right)$

समान्तर श्रेणी

वह श्रेणी जिसका प्रत्येक पद अपने पूर्व पद से कोई नियत राशि जोड़ने अथवा घटाने से प्राप्त होता है।

जैसे - 2, 5, 8, 11,

समान्तर श्रेणी का n वाँ पद

$$T_n = a + (n - 1)d$$

जहाँ a = प्रथम पद

d = शार्व अंतर (द्वितीय पद - प्रथम पद)

n = पदों की संख्या

समान्तर श्रेणी के n पदों का योग $S_n = \frac{n}{2}[2a + (n - 1)d]$

यदि प्रथम व अंतिम पद ज्ञात हो तो $S_n = \frac{n}{2}[a + l]$

जहाँ l = अंतिम पद

दो राशियों के मध्य समांतर माध्य $A = \frac{a+b}{2}$ [a, b का समांतर माध्य A है।]

गुणोत्तर श्रेणी

यदि श्रेणी के प्रत्येक पद का उसके पूर्व पद से अनुपात एक निश्चित राशि होती है तो गुणोत्तर श्रेणी होती है। इस निश्चित राशि को शार्व अनुपात कहते हैं।

गुणोत्तर श्रेणी का n वाँ पद

$$T_n = a \cdot r^{n-1}$$

जहाँ a = प्रथम पद

r = शार्व अनुपात

n = पदों की संख्या

गुणोत्तर श्रेणी के n पदों का योगफल

$$S_n = a \left(\frac{1-r^n}{1-r} \right); \text{ जब } r < 1 \quad S_n = a \left(\frac{r^n - 1}{r - 1} \right); \text{ जब } r > 1$$

1. दो राशियों के मध्य गुणोत्तर माध्य $G = \sqrt{ab}$
2. यदि दो घनात्मक राशियों a व b के मध्य समांतर माध्य तथा गुणोत्तर माध्य A व G हैं तो

$$A > G, \quad \frac{a+b}{2} > \sqrt{ab}$$

हरात्मक श्रेणी

किसी श्रेणी के पदों के व्युत्क्रम उन्नी क्रम में लिखने पर समांतर श्रेणी में हो तो उसे हरात्मक श्रेणी कहते हैं।

हरात्मक श्रेणी का n वाँ पद

$$T_n = \frac{1}{a + (n - 1)d}$$

$$\text{हरात्मक माध्य (H)} = \frac{2ab}{a+b}$$

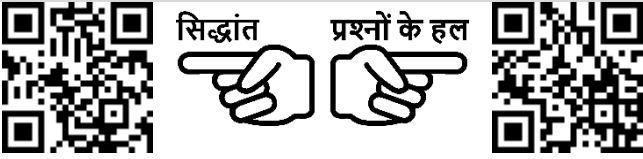
समान्तर माध्य, गुणोत्तर माध्य व हरात्मक माध्य में संबंध

माना A, G तथा H दो राशियों a व b के मध्य क्रमशः समांतर माध्य, गुणोत्तर माध्य व हरात्मक माध्य हैं तब

$$\boxed{G^2 = AH} \quad \text{तथा} \quad \boxed{A > G > H}$$

अभ्यास प्रश्न

VBODMAS – आधारित



उदा.1 $24 \times 2 \div 12 + 12 \div 6 \text{ of } 2 \div (15 \div 8 \times 4)$

of $(28 \div 7 \text{ of } 5)$ का मान होगा -

- (a) $4\frac{32}{75}$ (b) $4\frac{8}{75}$
 (c) $4\frac{2}{3}$ (d) $4\frac{1}{6}$

उदा.2 सरल करें

$$\left[3\frac{1}{4} \div \left\{ 1\frac{1}{4} - \frac{1}{2} \left(2\frac{1}{2} - \frac{1}{4} - \frac{1}{6} \right) \right\} \right] \div \left(\frac{1}{2} \text{ of } 4\frac{1}{3} \right)$$

उदा.3 सरल करें।

$$2\frac{3}{4} \div 1\frac{5}{6} \div \frac{7}{8} \times \left(\frac{1}{3} + \frac{1}{4} \right) + \frac{5}{7} \div \frac{3}{4} \text{ of } \frac{3}{7}$$

- (a) $\frac{56}{77}$ (b) $\frac{49}{80}$
 (c) $\frac{2}{3}$ (d) $3\frac{2}{9}$

वर्गान्तर तथा वर्गमूल आधारित



उदा.1 निम्नलिखित का मान है -

$$\sqrt{5 + \sqrt{11 + \sqrt{19 + \sqrt{29 + \sqrt{49}}}}} \text{ is}$$

- (a) 3 (b) 9
 (c) 7 (d) 5

उत्तर (a)

उदा.2 यदि $(102)^2 = 10404$ है, तो

$$\sqrt{104.04} + \sqrt{1.0404} + \sqrt{0.010404}$$

का मान किसके बराबर है ?

- (a) 0.306 (b) 0.0306
 (c) 11.122 (d) 11.322

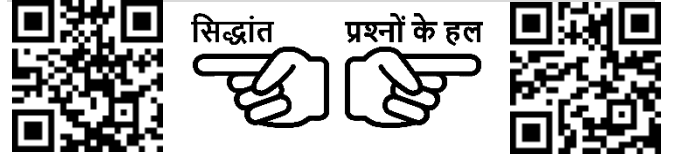
उत्तर (d)

उदा.3 $33 - 4\sqrt{35}$ का वर्गमूल क्या है ?

- (a) $\pm(2\sqrt{7} + \sqrt{5})$ (b) $\pm(\sqrt{7} + 2\sqrt{5})$
 (c) $\pm(\sqrt{7} - 2\sqrt{5})$ (d) $\pm(2\sqrt{7} - \sqrt{5})$

उत्तर (d)

घनान्तर तथा घनमूल आधारित



उदा.1 $(\sqrt{4^3 + 15^2})^3$ का मान क्या है ?

- (a) 4913 (b) 4313
 (c) 4193 (d) 3943


उत्तर (a)

उदा.2 710 में कौनसी छोटी संख्या जोड़ी जानी चाहिए ताकि योग एक पूर्ण घन बन जाए ?

- (a) 29 (b) 19
 (c) 11 (d) 21

उत्तर (b)

भिन्न आधारित



उदा.1 निम्नलिखित का मान है -

$$4 - \frac{5}{1 + \frac{1}{3 + \frac{1}{2 + \frac{1}{4}}}}$$

- (a) $\frac{1}{8}$ (b) $\frac{1}{64}$
 (c) $\frac{1}{16}$ (d) $\frac{1}{32}$

उत्तर (a)

उदा.2 यदि $2 = x + \frac{1}{1 + \frac{1}{3 + \frac{1}{4}}}$ है तो x का मान ज्ञात करें।

उत्तर (d)

- (a) $\frac{18}{17}$ (b) $\frac{21}{17}$
 (c) $\frac{13}{17}$ (d) $\frac{12}{17}$

उत्तर (b)

उदा.3 $999 \frac{998}{999} \times 999$ किसके बराबर है ?

- (a) 998999 (b) 999899
 (c) 989999 (d) 999989

उत्तर (a)

उदा.4 $\frac{1}{5} + 999 \frac{494}{495} \times 99$ का मान ज्ञात करें।

- (a) 90000 (b) 99000
 (c) 90900 (d) 99990

उत्तर (b)

बीजगणितीय श्रृंखलों पर आधारित



उदा.1 $\left(\sqrt{2} + \frac{1}{\sqrt{2}}\right)^2$ के बराबर है ?

- (a) $2\frac{1}{2}$ (b) $3\frac{1}{2}$
 (c) $4\frac{1}{2}$ (d) $5\frac{1}{2}$

उत्तर (c)

उदा.2 $\frac{0.51 \times 0.051 \times 0.051 + 0.041 \times 0.041 \times 0.041}{0.51 \times 0.051 - 0.051 \times 0.041 + 0.041 \times 0.041}$ का मान क्या है ?

- (a) 0.92 (b) 0.092
 (c) 0.0092 (d) 0.00092

उत्तर (b)

श्रेणी आधारित (समान्तर श्रेणी, गुणोत्तर श्रेणी, हरात्मक श्रेणी)



प्रश्नों के हल



उदा.1 50 से कम 3 के सभी गुणजों का योगफल ज्ञात करें ?

- (a) 400 (b) 408
 (c) 404 (d) 412

उत्तर (b)

उदा.2 निम्नलिखित समान्तर श्रेणी में कितने पद हैं ?
 7, 13, 19, , 205

उदा.3 5 के उन सभी घनात्मक गुणकों का योग ज्ञात करें जो 100 से कम हैं ?

समीकरण आधारित



प्रश्नों के हल



उदा.1 एक पर्यटक प्रतिदिन उतने ही रुपये खर्च करता है जितने उसके पर्यटन के दिनों की संख्या है। उसका कुल खर्च रुपये 361 है, तो ज्ञात करें कि उसका पर्यटन कितने दिनों तक चला ?

- (a) 17 days (b) 19 days
 (c) 21 days (d) 31 days

उत्तर (b)

उदा.2 यदि दो संख्याओं का योग 22 है, और उनके वर्गों का योग 404 है, तो उन संख्याओं का गुणफल ज्ञात करें ?

- (a) 40 (b) 44
 (c) 80 (d) 89

उत्तर (a)

उदा.3 जब एक दो श्रृंखलों की संख्या को उसके श्रृंखलों के योग से गुणा किया जाता है, तो गुणफल 424 होता है। जब उसके श्रृंखलों को आपस में बदलने से प्राप्त संख्या को श्रृंखलों के योग से गुणा किया जाता है तो परिणाम 280 होता है। संख्या के श्रृंखलों का योग कितना है ?

- (a) 7 (b) 9
 (c) 6 (d) 8

उत्तर (d)

किसी दो संख्याओं का जोड़ तथा ल.स.प. का म.स.प., उन संख्याओं के म.स. के बराबर होता है।

माना दो संख्याएँ x तथा y हैं, तथा उनका म.स. H है।

अतः $x = Ha$

$y = Hb$

जहाँ a तथा b परस्पर अभाज्य हैं।

x, y का LCM = Hab

और $x + y = H(a + b)$

अब 'a' तथा 'b' परस्पर अभाज्य संख्याएँ हैं, तो $(a + b)$ तथा ab भी परस्पर अभाज्य होगी। इससे यह निष्कर्ष निकलता है कि $H(a + b)$ तथा Hab का म.स. H ही होगा, जो x तथा y का भी म.स. है।

LCM एवं HCF में Relation

LCM \times HCF = दोनों संख्याओं का गुणनफल

उदा.1 दो संख्याओं का LCM एवं HCF क्रमशः 420 एवं 28 हैं। यदि एक संख्या 84 है, तो दूसरी संख्या ज्ञात कीजिए -

हल दूसरी संख्या = $\frac{420 \times 28}{84} = 140$

- जब कहा जाये कि x, y, z के लिये वह छोटी से छोटी संख्या क्या होगी जिसमें भाग देने पर r शेष बच जाये, इसके लिए उत्तर होगा x, y, z का $(LCM + r)$ ।
- वह छोटी से छोटी संख्या जिसे x, y, z से भाग करने पर शेषफल क्रमागत a, b, c हो। इसके लिये उत्तर होगा - $(x, y, z) - K$ का LCM।

अभ्यास प्रश्न

महत्तम समापवर्तक आधारित



उदा.1 84, 126, 140 का महत्तम समापवर्तक कितना है ?

उदा.2 $x^6 - 1$ और $x^4 + 2x^3 - 2x^1 - 1$ का म.स. क्या होगा ?

- (a) $x^2 + 1$ (b) $x - 1$
 (c) $x^2 - 1$ (d) $x + d$

उत्तर (c)

लघुत्तम समापवर्त्य आधारित



उदा.1 15, 18, 24, 27, 36 का लघुत्तम समापवर्त्य क्या होगा ?

उदा.2 दो संख्याओं का योग 45 है। उनका अंतर योग का $\frac{1}{9}$ है, तो उनका ल.स. ज्ञात करें।

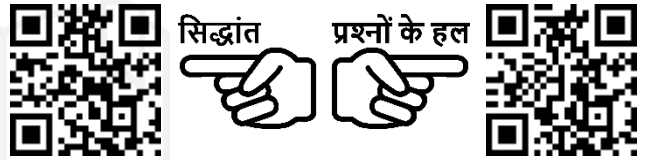
- (a) 200 (b) 250
 (c) 100 (d) 150

उत्तर (c)

उदा.3 छः घण्टियाँ एक साथ बजनी आरम्भ हुई, यदि ये घण्टियाँ क्रमशः 2, 4, 6, 8, 10, 12 सेकण्ड के अंतराल से बजे, तो 30 मिनट में कितनी बार ये एक साथ इक्कट्टी बजेंगी ?

- (a) 4 बार
 (b) 10 बार
 (c) 16 बार
 (d) इनमें से कोई नहीं

भिन्नों के ल.स.प. तथा म.स.प.



उदा.1 $\frac{14}{33}, \frac{42}{55}, \frac{21}{22}$ का महत्तम समापवर्तक ज्ञात कीजिए -

उदा.2 $\frac{11}{14}, \frac{55}{42}, \frac{33}{35}, \frac{44}{63}$ का लघुत्तम समापवर्तक ज्ञात कीजिए -

उदा.3 तीन व्यक्ति एक 11 किमी. लम्बे वृत्ताकार पथ पर एक साथ एक ही दिशा में चलना प्रारंभ करते हैं। उनकी चाल क्रमशः 4, 5.5 एवं 8 किमी. प्रति घंटा है। वे तीनों एक साथ कितने समय बाद प्रारंभिक बिन्दु पर मिलेंगे ?

ल.स.प. तथा म.स.प. के मध्य संबंध आधारित



उदा.1 दो संख्याओं का ल.स. 225 तथा म.स. 5 है। यदि उसमें से एक संख्या 25 है, तो दूसरी संख्या ज्ञात करें ?

- (a) 5 (b) 25
 (c) 45 (d) 225

उत्तर (c)

उदा.2 दो संख्याओं का योग 36 है, इनका महत्तम समापवर्तक 3 तथा लघुत्तम समापवर्त्य 105 है, इन संख्याओं के व्युत्क्रमों का योग कितना होगा ?

(a) $\frac{2}{35}$

(b) $\frac{3}{25}$

(c) $\frac{4}{35}$

(d) $\frac{2}{25}$

उत्तर (c)

उदा.3 दो संख्याओं के म.स. तथा ल.स. का योग 680 है उनका ल.स., म.स. का 84 गुणा है। यदि एक संख्या 56 है, तो दूसरी संख्या ज्ञात करें ?

(a) 84

(b) 12

(c) 8

(d) 96

उत्तर (d)

उदा.4 दो संख्याओं के महत्तम समापवर्तक तथा लघुत्तम समापवर्त्य क्रमशः 12 तथा 72 है, यदि इन संख्याओं का योग 60 हो, तो इनमें से छोटी संख्या निम्न में से कौन-सी है ?

(a) 12

(b) 24

(c) 60

(d) 72

उत्तर (b)